

Guía "El agua"

Nombre: _____ Curso: 2º Fecha: _____

I. Responde las siguientes preguntas;

1. ¿En qué estado el agua ocupa todo el espacio disponible y se adapta a la forma del recipiente que la contiene?

Respuesta: _____

2. ¿En qué estado el agua tiene una forma definida?

Respuesta: _____

3. ¿Cuál es una característica del agua líquida?

Respuesta: _____

4. ¿Qué significa que el agua sea inodora?

Respuesta: _____

5. ¿Qué cambio de estado se observa en la imagen?





Respuesta: De _____ a _____.

II. Observa la imagen y descubre en que acciones se malgasta el agua (marca con una cruz). Luego, describe la forma de revertir esta acción.



1. _____

2. _____

III. Observa las imágenes y marca con un  las situaciones en las que se cuida el agua y con una  aquellas en las que se malgasta.







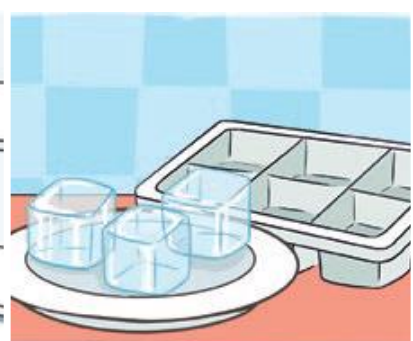
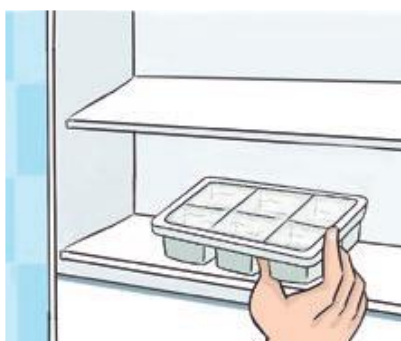


IV. Completa el cuadro según corresponda.

Agua de mar - Témpano - Vapor de agua - Nieve - Lluvia - Granizo - Agua de río

Agua sólida	Agua líquida	Agua gaseosa

V. Observa las imágenes y completa las oraciones con una palabra del paréntesis.



En la secuencia, al _____ la temperatura, el agua líquida se _____
 (disminuir) / aumentar (congela / evapora)