





Colegio San Sebastián Santiago Centro  
Historia, Geografía y Cs. Sociales  
Profesora Sra. Ana María Ojeda Merino

### Guía de Historia

Nombre: \_\_\_\_\_ Curso: 2º Básico Fecha: \_\_\_\_\_

I. Escribe **la letra inicial** de los puntos cardinales en los  correspondientes. Luego escribe hacia qué punto cardinal se encuentran los siguientes elementos.



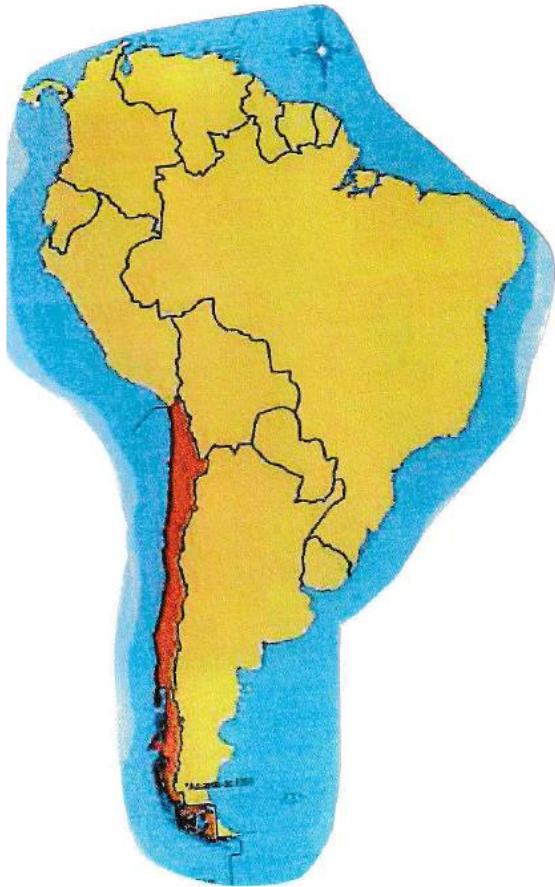
Corral: Norte

Cordillera: \_\_\_\_\_

Árboles: \_\_\_\_\_

Laguna: \_\_\_\_\_

II. Observa el mapa, luego encierra la alternativa correcta.



1. ¿Qué país está pintado de rojo?

- A. Perú
- B. Chile
- C. Argentina

2. ¿A qué continente corresponde la imagen?

- A. África.
- B. Asia.
- C. América.

3. ¿Qué lugar se ubica al Este de Chile?

- A. El océano Pacífico.
- B. El Polo sur.
- C. Argentina.

4. Chile limita al Sur con:

- A. Perú
- B. Argentina y Bolivia
- C. El Polo Sur

III. Escribe el nombre que corresponde a cada representación.

|      |       |                 |             |
|------|-------|-----------------|-------------|
| Mapa | Plano | Globo terráqueo | Planisferio |
|------|-------|-----------------|-------------|

